



MUNICÍPIO DA ESTÂNCIA BALNEÁRIA DE PRAIA GRANDE

Estado de São Paulo
SEDUC - Secretaria de Educação

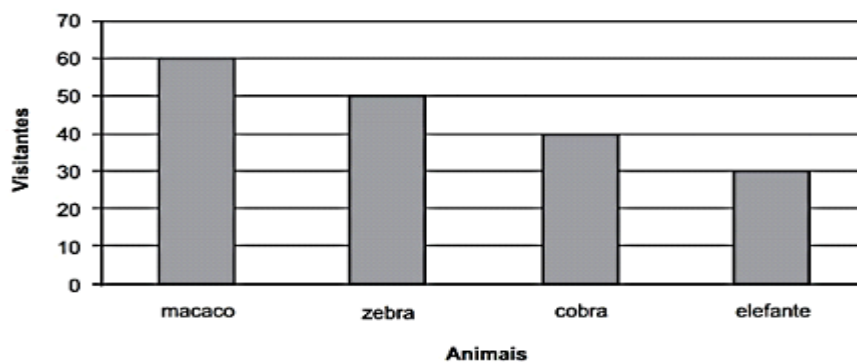
PONTE DO SABER



Atividade 14

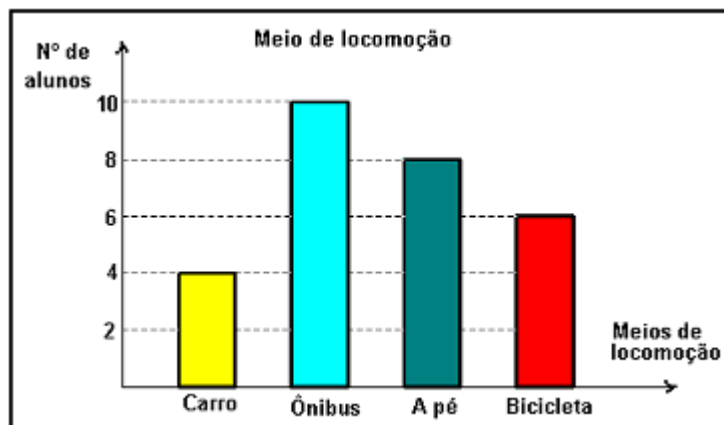
4º ano do Ensino Fundamental

- 1) O gráfico abaixo mostra a quantidade de pessoas que visitaram animais de um zoológico no último final de semana.



De acordo com esse gráfico, quantas pessoas visitaram o elefante?


- a) 30 pessoas.
 - b) 40 pessoas.
 - c) 50 pessoas.
 - d) 60 pessoas.
- 2) Os alunos de uma turma responderam a uma entrevista sobre o meio de locomoção que eles usam para ir à escola. Os resultados estão registrados no gráfico a seguir:



Quantos alunos dessa turma responderam a essa entrevista?

- a) 28 alunos.
- b) 18 alunos.
- c) 24 alunos.
- d) 10 alunos.

- 3) Maria é professora do 4º ano e está trabalhando conceitos sobre Estatística com sua turma. Para desenvolver uma pesquisa com seus alunos ela levou à sala 4 tipos de frutas para que os alunos escolhessem sua preferida.

Frutas				
Número de alunos	<input type="checkbox"/> <input type="checkbox"/>	<input type="checkbox"/> <input type="checkbox"/>	<input type="checkbox"/>	<input type="checkbox"/>

3.A) Qual a fruta preferida dos alunos?

- a) banana.
- b) maçã.
- c) uva.
- d) laranja.

3.B) Quantos alunos preferem uva?

- a) 3.
- b) 5.
- c) 9.
- d) 10.

- 4) Observe o quadro onde estão as informações referente ao número de escritos para o campeonato de basquete.

Alunos inscritos no campeonato de basquete		
Idade	Meninas	Meninos
8 anos	95	47
10 anos	187	240
12 anos	356	308

Quantas meninas de 12 anos estão inscritas?

- a) 95.
- b) 187.
- c) 356.
- d) 308.